

NARAVOSLOVJE 7

Do sedaj smo spoznali **PRAŽIVALI, SPUŽVE** in značilne živali iz skupine **NEČLENARJEV – PLOSKE ČRVE, VALJASTE ČRVE, OŽIGALKARJE** in **MEHKUŽCE**.

Preden preidemo na skupino MNOGOČLENARJEV, bomo snov ponovili in utrdili.

Pripravila sem vam poskusno preverjanje. Najprej skušajte odgovoriti na vprašanja sami, prvih 45 min, potem si lahko pomagata z zvezkom, učbenikom, spletom...

Kar niste znali sami, dopolnite z rdečim pisalom. Tako boste vedeli, kje še imate luknje v znanju.

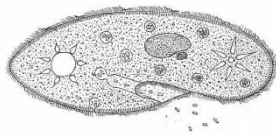
OŠ Šmartno
Dne:

1. POSKUSNO PREVERJANJE NARAVOSLOVJE 7

Ime in priimek:
Razred:

1. Poimenuj enoceličarje jih uvrsti v sistem!

3t



Ime: _____

Uvrstitev: _____

2. Zakaj lahko evgleno hkrati uvrščamo v rastlinski in živalski svet?

1t

3. Plazmodija uvrščamo v skupino trosovcev. Katera žival je prenašalka tega enoceličarja in katero bolezen povzroča?

1t

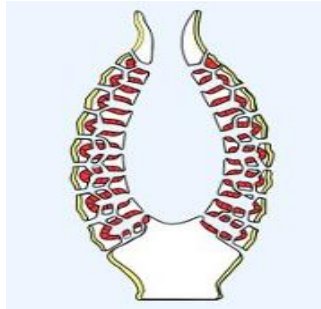
4. Opiši, kako je trakulja prilagojena na zajedalski način življenja?

3t

5. Spužve so najpreprostejši mnogoceličarji, ki še nimajo pravih tkiv in organov.

Na sliki označi odtekalno in dotekalke ter s puščicami smer vodnega toka.
Obkroži tudi prostore, kjer se nahajajo bičkaste celice ovratničarke.

3t




a) Katere tri glavne naloge opravljajo bičkaste celice ovratničarke.

3t

6. Napiši razvojne stopnje velikega metljaja (glej sliko)

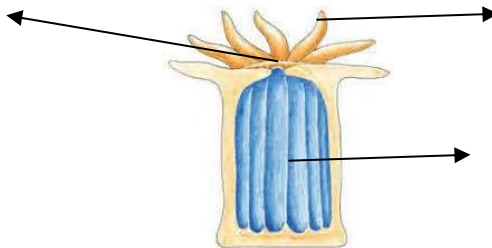
4t



1. _____
2. _____
3. _____
4. _____
5. _____
6. _____
7. _____
8. _____

7. Telesni obliki morske vetrnice pravimo polip. Poimenuj glavne dele polipa.

3t

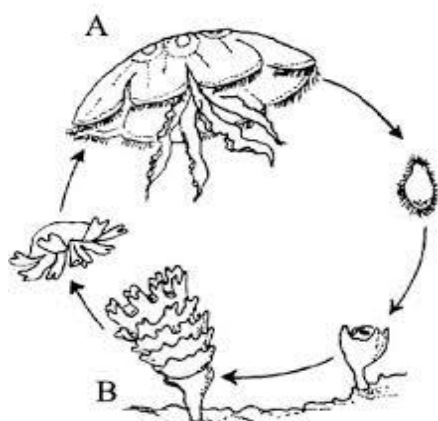


8. Kateri ožigalkar je prikazan na sliki. Na kratko opiši kako ti ožigalkarji živijo.

3t



9. Za uhatega klobučnjaka je značilno izmenjavanje spolne in nespolne generacije.



Dopiši ustrezne pojme (meduza, polip, spolno nespolno)

2t

Pritrjeni obliki na morskem dnu pravimo _____, ta se razmnožuje _____.

Prosto plavajoči obliki pa _____, ta se razmnožuje _____.

10. Ustrezno dopiši!

3t

A Školjke

_____ dvodelna lupina

B Polži

_____ iztisne črnilo skozi lijak

C Glavonožci

_____ voda priteka skozi dotekalko, odteka skozi odtekalko

_____ na glavi ima tipalke s čutili

_____ zelo dobro razvite oči

_____ spiralno zavita hišica

9. Poimenuj glavonožce na slikah in za vsakega napiši po eno telesno značilnost, po kateri se razlikuje od ostalih. Pomagaj si s sliko.

3t



--	--	--

10. Opiši, kako se hobotnica skrije ali pobegne pred plenilcem?

3t

35 t

Kriterij:

90-100 % = 5

76-89 % = 4

61-75 % = 3

46-60 % = 2

45 - 0 % = 1